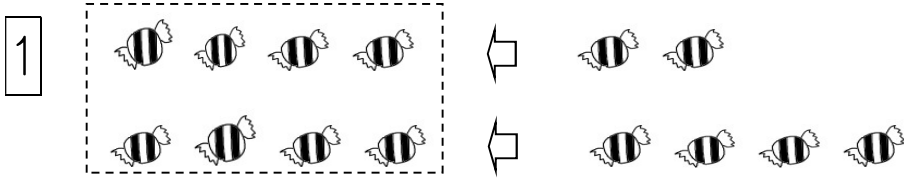


なまえ _____



あめが 8こ ありました。2こ もらいました。また、4こ もらいました。あわせて なんこに なりましたか。ただしい しきに ○を つけましょう。

() $8 + 2 - 4$

() $8 - 2 - 4$

() $8 + 2 + 4$

2 ちゅうしゃじょうに ^{くるま} 車が 10だい とまっています。

4だい でした。3だい はいりました。なんだいに なりましたか。ただしい しきに ○を つけましょう。


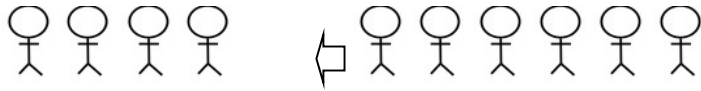
() $10 + 4 - 3$

() $10 - 4 - 3$

() $10 - 4 + 3$

なまえ _____

1



4人あそんでいました。6人きました。つぎに3人きました。
 みんなで なん人に なったでしょうか。たしい しきに
 ○を つけましょう。

$4 + 6 - 3$

$4 - 6 - 3$

$4 + 6 + 3$

2 ちゅうしゃじょうに ^{くるま}車が 10だい とまっています。

2だい でした。5だい はいりました。なんだいに
 なりましたか。たしい しきに ○を つけましょう。

$10 + 2 - 5$

$10 - 2 - 5$

$10 - 2 + 5$