



なまえ _____


1 りんごが 9こ ありました。5こもりました。ぜんぶで なんこでしょう。



ただしい しきに ○をつけましょう。

() $9+5$ () $9-5$ () $14-5$

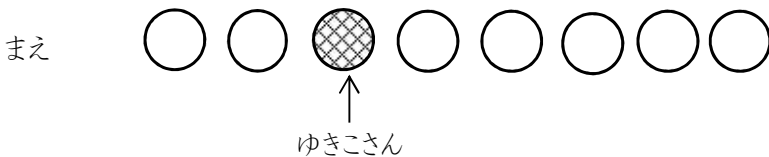
2 どちらが なんこ おおいでしょう。



ただしい しきに ○を つけましょう。

() $12+8$ () $12-8$ () $8-12$

3 こどもが ならんでいます。ゆきこさんはま^めえから 3ばん目です。ゆきこさんのうしろに 5人います。みんなで 何人いますか。



しき

こたえ _____

4 4こどもが 8人 ならんでいます。かなさんは まえから 3ばん目です。

ひろに なん人 いるでしょうか。


まえ



←かなえさん



しき




こたえ

5 あめが 10こ あります。おなじ かずになるように 2人で わけましょう。



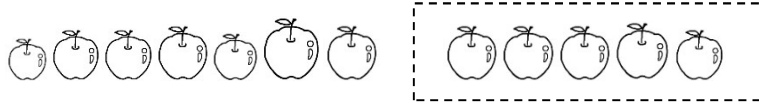
いくつずつに なりますか。



こずつ

なまえ _____


1りんごが 12こ ありました。5こたべました。のこりは なんこでしょう。



ただしい しきに ○をつけましょう。

() $12+5$ () $12-5$ () $5-12$

2どちらが なんぼん おおいでしょう。

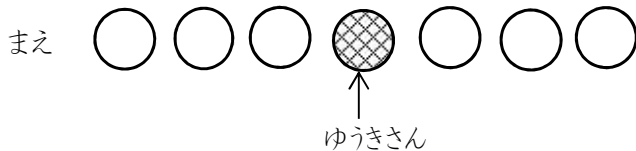


ただしい しきに ○をつけましょう。

() $11-6$ () $6-11$ () $11+6$

3こどもが ならんでいます。ゆうきさんはま^めえから 4ばん目です。うしろ

に 3人います。みんなで 何人いますか。




しき

こたえ _____

4 みどりさんの 列は 9人います。みどりさんは、まえから 5ばん目です。

まえ

後ろに なん人もいる でしょう。



←みどりさん

しき

こたえ

5 あめが 12こ あります。おなじ かずになるように 2人で わけましょう。



いくつずつに なりますか。

こずつ