

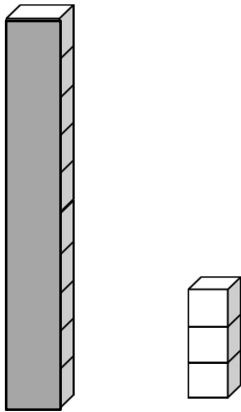
なまえ

① なんびき いるでしょう (ひき)



② ①ぶろっくは なんこ ありますか。

(こ)



② ⑬ は なんと よみますか。ただし よみかたに ○を
つけましょう。

()いち と さん ()じゅう と さん

()じゅうさん ()さんじゅう

③ □に かずを かきましょう。

① 10 と 6 で

② 10 と 10 で

④ ①どちらのかずが ^{おお}大きいですか。^{おお}大きいほうに ○をつけましょう。

8

11

② ^{かーど}かずのカードが ならんでいます。□に あう かずを かきましょう。



⑤ □に かずを かきましょう。

$10 + 3 =$

$15 - 5 =$

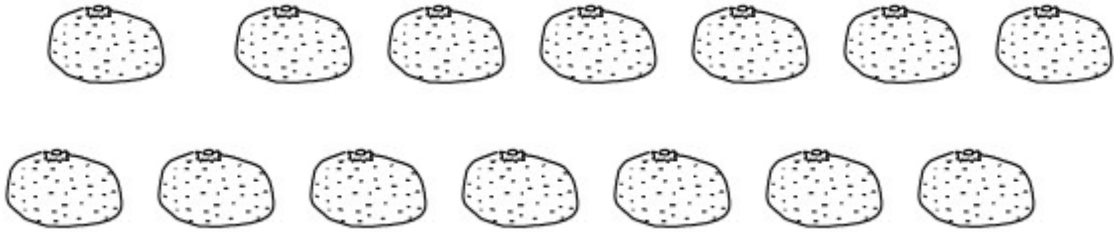
$14 + 2 =$

$16 - 4 =$

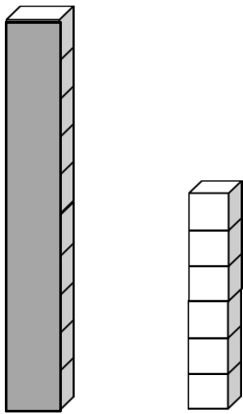
なまえ

1 なんこ あるでしょうか。

(こ)



2 ①ぶろっくは なんこ ありますか。



(こ)

② **15** は なんと よみますか。ただし よみかたに ○を
つけましょう。

()いち と ご ()じゅう と ご

()ごじゅう ()じゅうご

3 □に かずを かきましょう。

① 10 と 8 で

① 10 と 10 で

4 ①どちらのかずが ^{おお}大きいですか。^{おお}大きいほうに ○をつけましょう。

②かずのカードが ^{かーど}なっています。□に あう かずを かきましょう。

— — — — — —

5 □に かずを かきましょう。

$10 + 5 =$

$14 - 4 =$

$13 + 4 =$

$15 - 3 =$