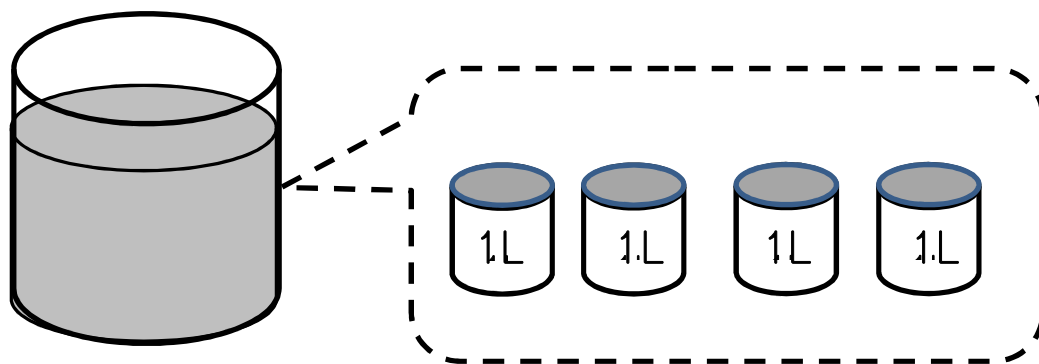


名まえ

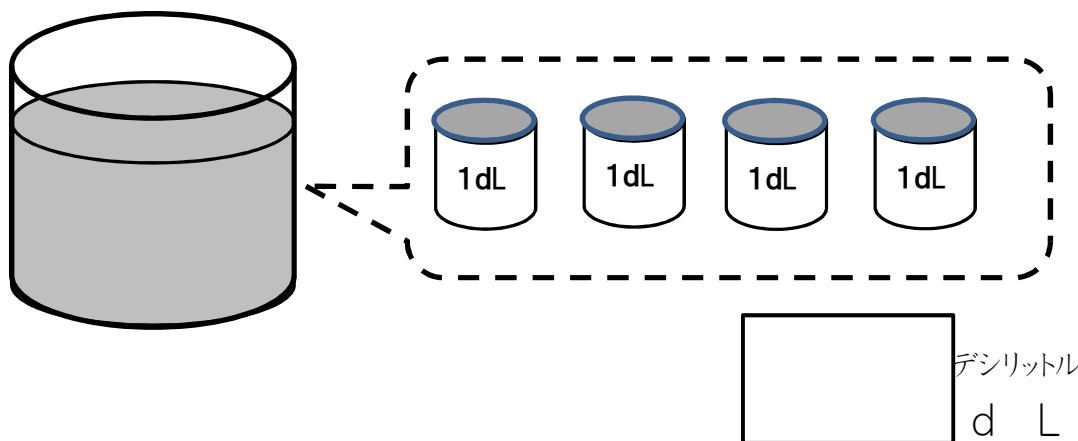
1 いれものに入った 水のかさを はかりました。正しい かさに ○を  
つけましょう。



(     ) 1リットル     (     ) 4リットル     (     ) 5リットル

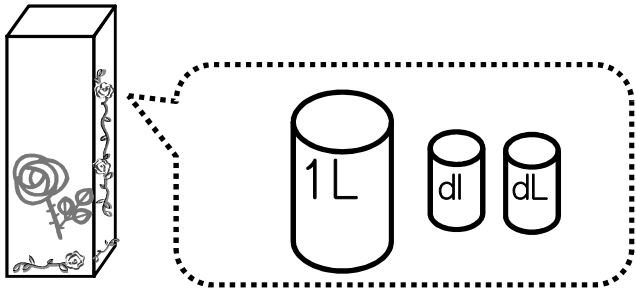
2 つぎの □に <sup>すうじ</sup> 数字を かきましょう。

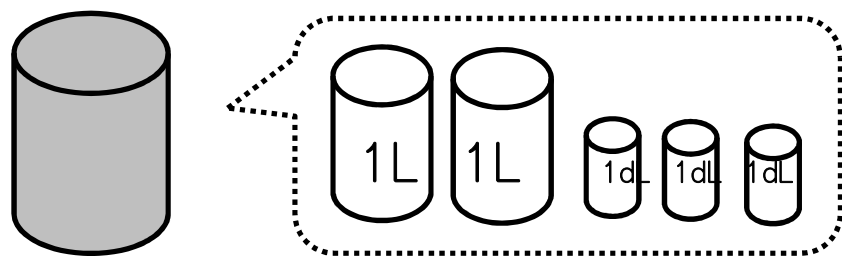
(1)



(2) 1L = □ <sup>デシリットル</sup> d L

③ つぎの入れものに入る水のかさをしらべました。□に数字を すうじ 書き  
 きましょう。

(1)  □ L □ dL

(2)  □ L □ dL

④ □に あてはまる数を 書きましょう。

①  $3\text{L}4\text{dL} = \square \text{ dL}$       ②  $75\text{dL} = \square \text{ L } \square \text{ dL}$

③ □に あてはまる、>、<を 書きましょう。

$4\text{L}8\text{dL} \square 5\text{L}8\text{dL}$        $60\text{dL} \square 5\text{L}6\text{dL}$

⑤ ①  $3\text{L}5\text{dL} + 2\text{L}8\text{dL} = \square \text{ L } \square \text{ dL}$

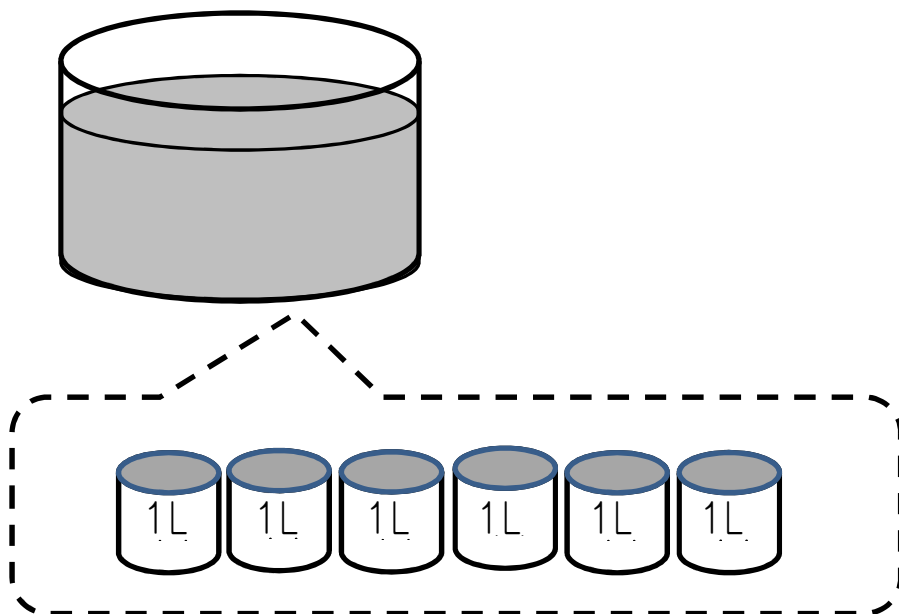
②  $5\text{L}1\text{dL} - 2\text{L}5\text{dL} = \square \text{ L } \square \text{ dL}$

⑥ つぎの □に すうじ 数字を かきましょう。

$1\text{L} = \square \text{ mL}$        $1\text{dL} = \square \text{ mL}$

名まえ

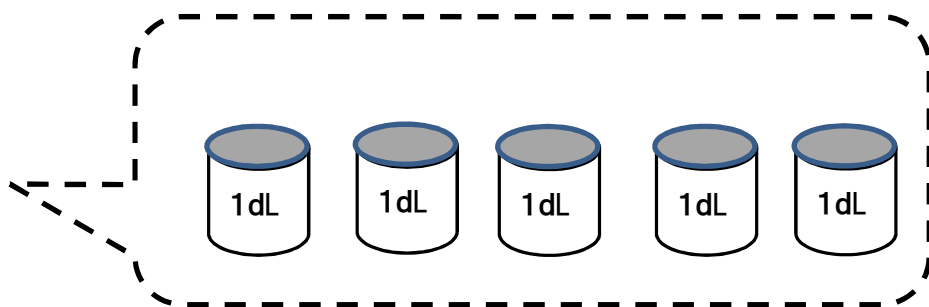
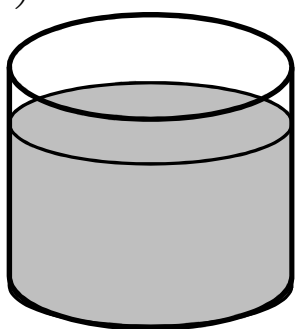
1 いれものに入った 水のかさを はかりました。正しい かさに ○を つけましょう。



( ) 1リットル      ( ) 4リットル      ( ) 6リットル

2 つぎの □に <sup>すうじ</sup> 数字を かきましょう。

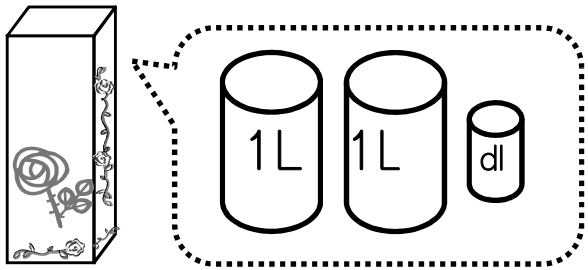
(1)

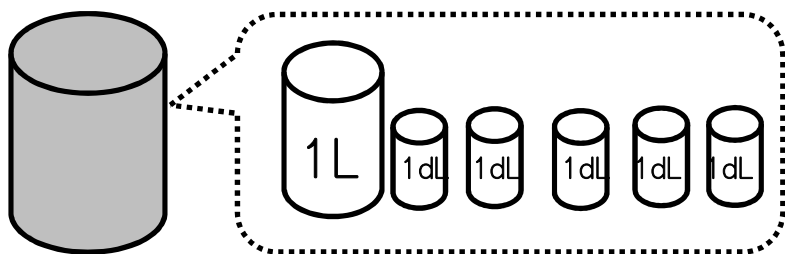


□ デシリットル  
d L

(2) 1L = □ デシリットル  
d L

3 つぎの入れものに入る水のかさをしらべました。□に数字を <sup>すうじ</sup> 書きましよう。

(1)  □ L □ dL

(2)  □ L □ dL

4 □にあてはまる数を 書きましよう。

①  $2\text{L}5\text{dL} = \square \text{ dL}$       ②  $75\text{dL} = \square \text{ L } \square \text{ dL}$

③ □にあてはまる、>、<を 書きましよう。

$6\text{L}8\text{dL} \square 5\text{L}8\text{dL}$        $40\text{dL} \square 4\text{L}6\text{dL}$

5 ①  $6\text{L}8\text{dL} + 2\text{L}4\text{dL} = \square \text{ L } \square \text{ dL}$

②  $8\text{L}4\text{dL} - 2\text{L}9\text{dL} = \square \text{ L } \square \text{ dL}$

6 つぎの □に <sup>すうじ</sup> 数字を かきましよう。

$1\text{L} = \square \text{ mL}$        $1\text{dL} = \square \text{ mL}$