

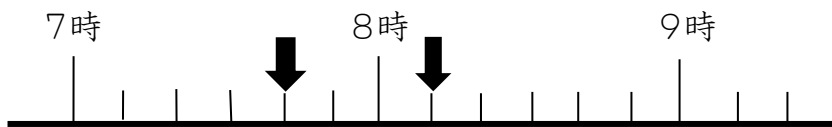
名前 \_\_\_\_\_

1 (1) <sup>ごぜん</sup>午前8時50分に出発して、30分歩くと、何時何分になりますか



時  分


(2) <sup>ごぜん</sup>午前7時40分に出発して、歩いて、午前8時10分に着きました。  
何分歩きましたか。



(            )分

2 (1) 学校を出て、40分歩いて、午後3時10分につきました。  
出たのは午後何時何分ですか。

午後  時  分



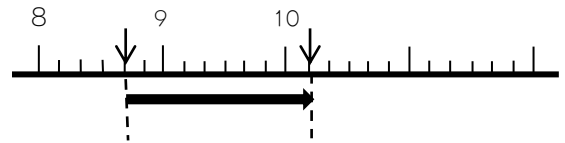
(2) 学校を出て、1時間20分歩いて、午後3時10分につきました。  
出たのは午後何時何分ですか。

$$\begin{array}{r} 3\text{時 } 10\text{分} \\ - 1\text{時 } 20\text{分} \\ \hline \end{array}$$

午後  時  分

3 (1) 午前8時40分から、1時間30分後の 時こくは 午前何時何分ですか。

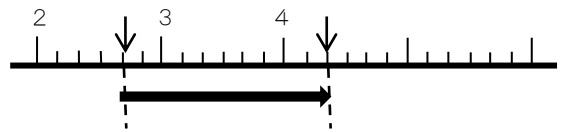
$$\begin{array}{r} 8\text{時 } 40\text{分} \\ + 1\text{時 } 30\text{分} \\ \hline \end{array}$$



午前  時  分

(2) 午後2時40分から、1時間40分後の時こくは 午後何時何分ですか。

$$\begin{array}{r} 2\text{時 } 40\text{分} \\ + 1\text{時 } 40\text{分} \\ \hline \end{array}$$



午後  時  分

4  に 数 を 書 け ば 可 い。

1分 =  びょう 秒

5  に 数 を 書 け ば 可 い。

(1) 1分25秒 =  秒

(2) 98秒 =  分  秒

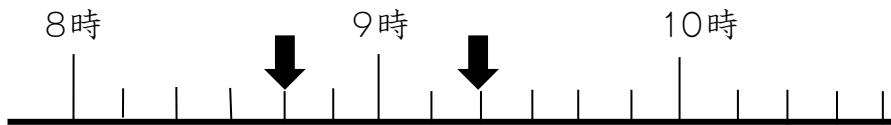
名前 \_\_\_\_\_

1 (1) <sup>ごぜん</sup>午前9時40分に出発して、30分歩くと、何時何分になりますか




時  分

(2) <sup>ごぜん</sup>午前8時40分に出発して、歩いて、午前9時20分に着きました。<sup>つ</sup>何分歩きましたか。



(        )分

3 (1) 学校を出て、40分歩いて、午後3時20分につきました。出たのは午後何時何分ですか。 午後(    )時(    )分



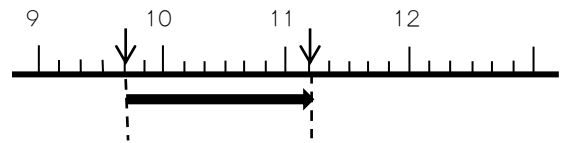
(2) 学校を出て、1時間30分歩いて、午後3時10分につきました。出たのは午後何時何分ですか。

$$\begin{array}{r} 3\text{時 } 10\text{分} \\ - 1\text{時 } 30\text{分} \\ \hline \end{array}$$

午後  時  分

③ (1) 午前9時40分から、1時間30分後の 時刻は 午前何時何分ですか。

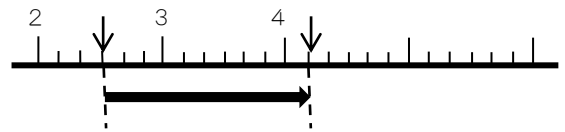
$$\begin{array}{r} 9\text{時 } 40\text{分} \\ + 1\text{時 } 30\text{分} \\ \hline \end{array}$$



午前  時  分

(2) 午後2時30分から、1時間40分後の時刻は 午後何時何分ですか。

$$\begin{array}{r} 2\text{時 } 30\text{分} \\ + 1\text{時 } 40\text{分} \\ \hline \end{array}$$



午後  時  分

④  に 数 を 書 け ば 可 い。

1分 =  びょう 秒

⑤  に 数 を 書 け ば 可 い。

(1) 1分35秒 =  秒

(2) 100秒 =  分  秒