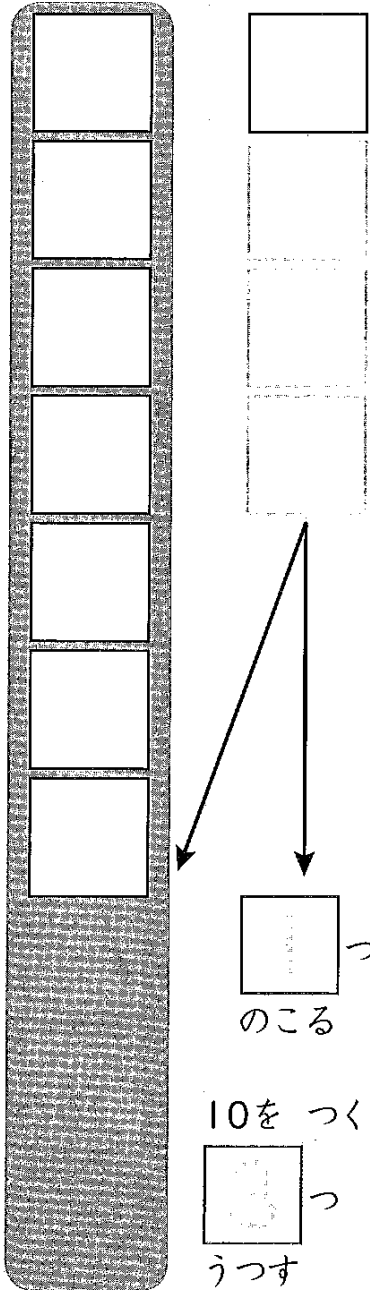


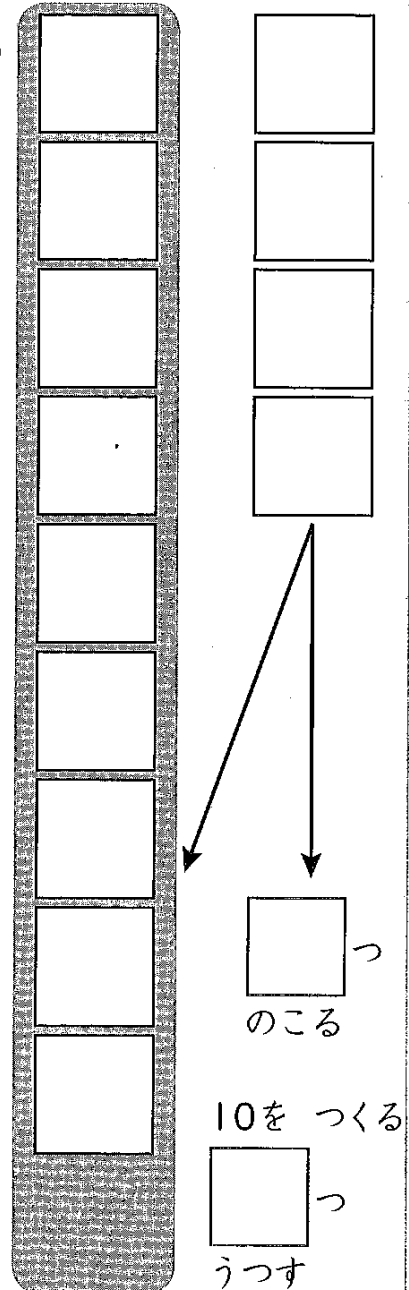
① 10をつくと いくつ のこりますか。

ブロックを つかって やりましょう。

(1)



(2)



② 10をつくと いくつ のこりますか。

ブロックを つかって やりましょう。

(1)

(2)

のこる

10をつくる

うつす

のこる

10をつくる

うつす

① ブロックを つかって たしざんを しましょう。

(1)

$$\begin{array}{c} \square \\ \square \\ \square \\ \square \\ \square \\ \square \\ \square \\ \square \\ \square \\ \square \end{array} + \begin{array}{c} \square \\ \square \\ \square \\ \square \end{array}$$

Answer box:

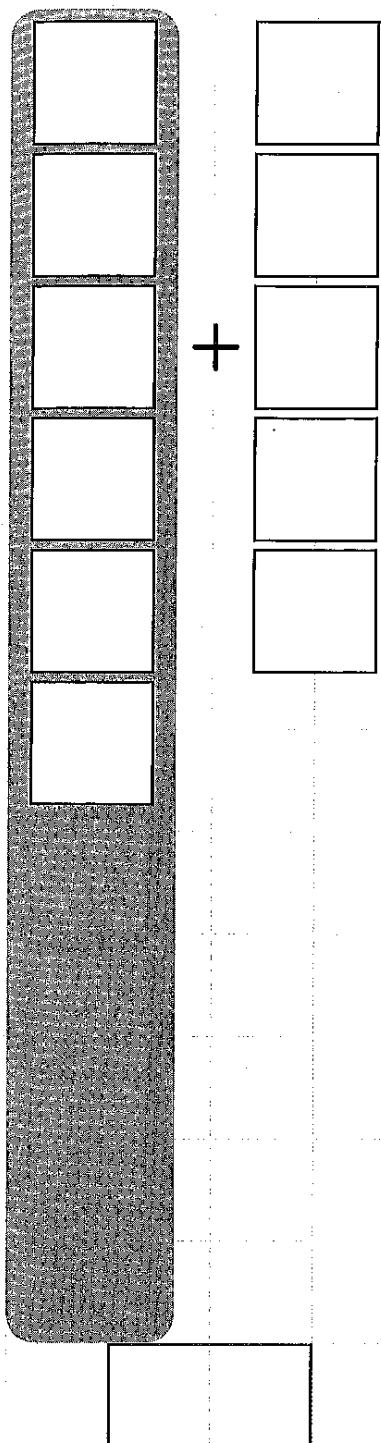
(2)

$$\begin{array}{c} \square \\ \square \\ \square \\ \square \\ \square \\ \square \\ \square \\ \square \\ \square \\ \square \end{array} + \begin{array}{c} \square \\ \square \\ \square \\ \square \end{array}$$

Answer box:

② ブロックを つかって たしざんを しましょう。

(1)



(2)

