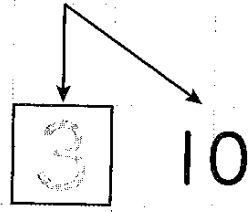
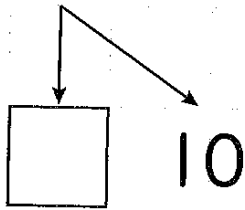


① $13 - 8$



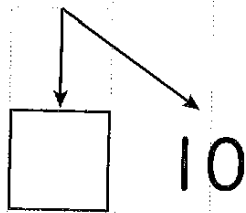
のこりの かず

② $16 - 9$



のこりの かず

③ $14 - 8$

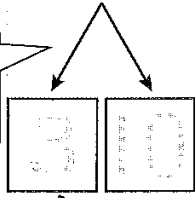


のこりの かず

① ひきざんを しましょう。

(1) $13 - 8$

13を3と10にわける。




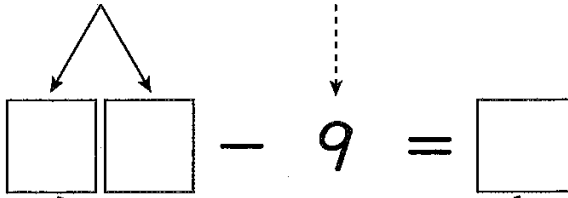
$3 + 10 - 8 = 2$

10から8をひく。

3と2で5。



(2) $11 - 9$



② ひきざんを しましょう。

(1)

$$\begin{array}{r} 16 - 9 \\ \swarrow \searrow \\ \square \square - 9 = \square \\ \downarrow \\ \square \end{array}$$

(2)

$$\begin{array}{r} 15 - 8 \\ \swarrow \searrow \\ \square \square - 8 = \square \\ \downarrow \\ \square \end{array}$$