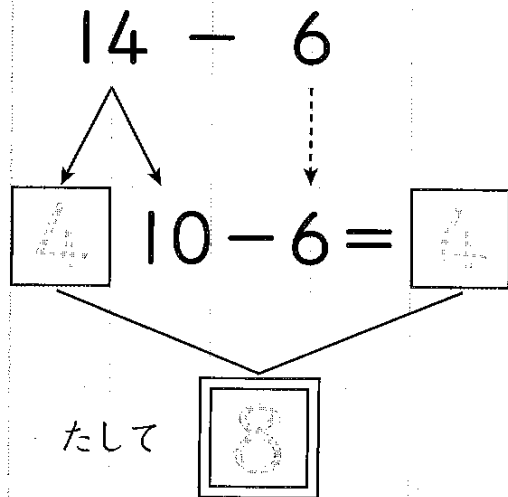
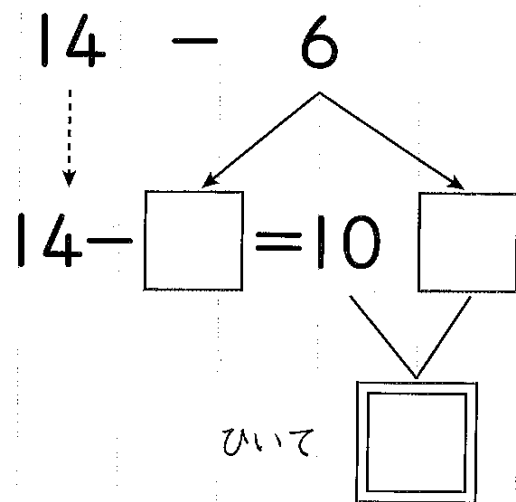


① ひきざんを しましょう。

(1)

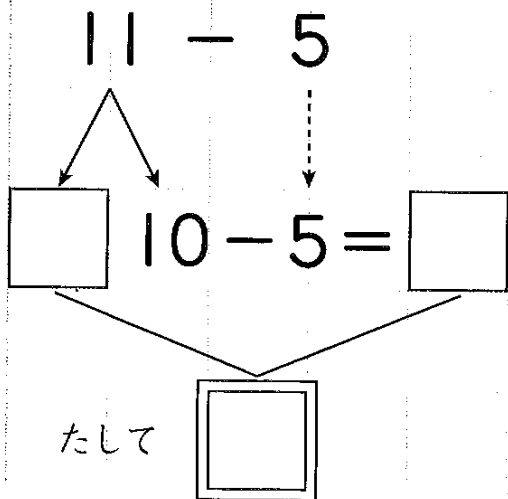


(2)

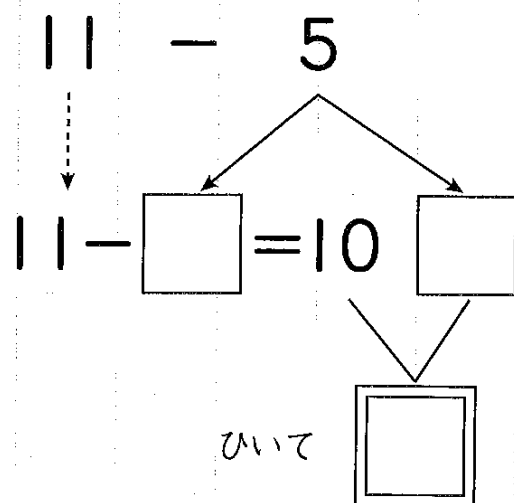


② ひきざんを しましょう。

(1)



(2)



① ひきざんを しましう。

(1) $11 - 5$

(2) $12 - 6$

② ひきざんを しましう。

(1) $13 - 5$

(2) $14 - 7$

③ ひきざんを しましう。

(1) $17 - 9$

(2) $18 - 9$