


① たすのかな ひくのかな。


(1) さるは ぜんぶで なんびき

いるでしょうか。

石の 上に 8びき




木の 上に 5びき




(2) さるは どちらが なんびき

おいででしょうか。

石の 上に 12ひき



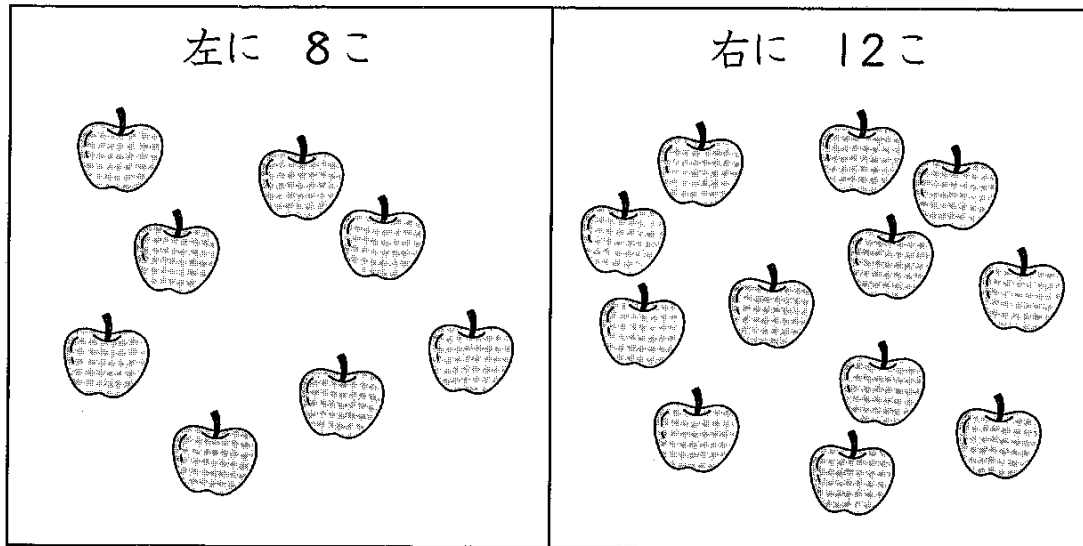
木の 上に 7ひき



② たすのかな ひくのかな。

(1) りんごは どちらが なんこ

おいでしょうか。



(2) りんごを ぜんぶで いくつ

たべたでしょうか。

