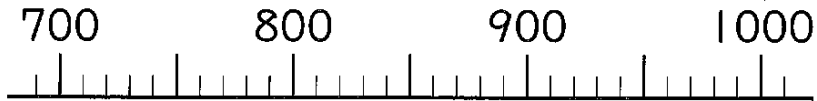
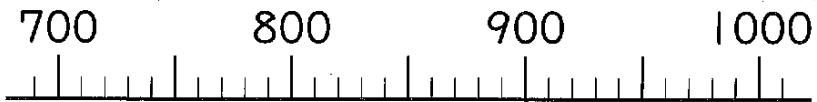


① つぎの 数を 書きましょう。

(1) 1000より 200 小さい 数

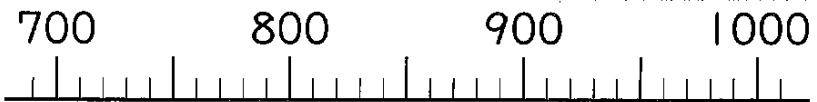


(2) 700より 30 大きい 数

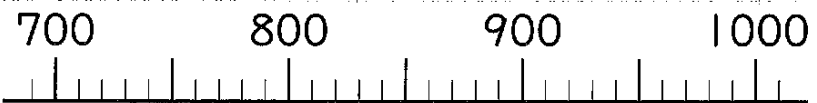


② つぎの 数を 書きましょう。

(1) 800より 100 大きい 数

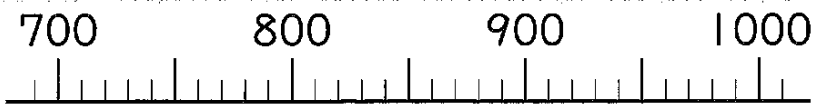


(2) 1000より 20 小さい 数



③ つぎの 数を 書きましょう。

(1) 1000より 300 小さい 数



(2) 900より 10 大きい 数

