



① 次の 時こくを 午前, 午後を つけて
いましょう。

(1)



| | | | | |
|--|--|---|--|---|
| | | 時 | | 分 |
|--|--|---|--|---|

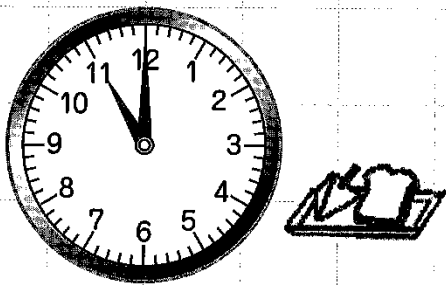
(2)



| | | | | |
|--|--|---|--|---|
| | | 時 | | 分 |
|--|--|---|--|---|


② 次の 時こくを 午前, 午後を つけて
いましょう。

(1)



| | | | | |
|--|--|---|--|---|
| | | 時 | | 分 |
|--|--|---|--|---|

(2)



| | | | | |
|--|--|---|--|---|
| | | 時 | | 分 |
|--|--|---|--|---|