



① 次の水のかさは、何 dL でしょうか。

(1)



dL


(2)



dL


② 次の水のかさは、何 dL でしょうか。

(1)



dL


(2)



dL


③ 次の水のかさは、何 dL でしょうか。

(1)



dL

(2)



dL

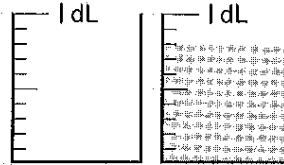
① 次の水のかさは、何 dL でしょうか。

(1)



dL

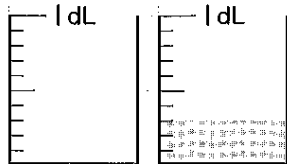
(2)



dL

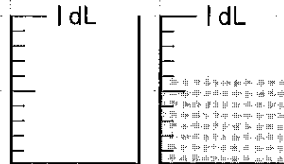
② 次の水のかさは、何 dL でしょうか。

(1)



dL


(2)



dL

③ 次の水のかさは、何 dL でしょうか。

(1)



dL

(2)



dL