


① バケツに入っている水のかさをはかりました。


何Lでしょうか。

(1)



L

(2)

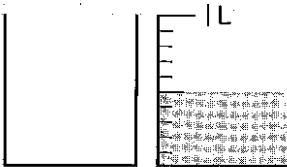


L

② バケツに入っている水のかさをはかりました。


何Lでしょうか。

(1)



L

(2)




L

③ バケツに入っている水のかさをはかりました。


何Lでしょうか。

(1)



L

(2)



L

① 1 cm をもとにして、次の長さを小数で表しましょう。

0 1 2 3 4 5 (cm)



① 7 mm

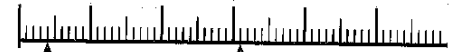
① cm

② 2 cm 6 mm

② cm

② 1 cm をもとにして、次の長さを小数で表しましょう。

0 1 2 3 4 5 (cm)



① 4 mm

① cm

② 3 cm 1 mm

② cm

③ 1 cm をもとにして、次の長さを小数で表しましょう。

0 1 2 3 4 5 (cm)



① 5 mm

① cm

② 2 cm 4 mm

② cm

③ 1 m をもとにして、次の長さを小数で表しましょう。

