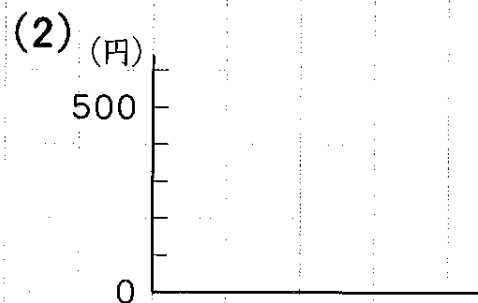
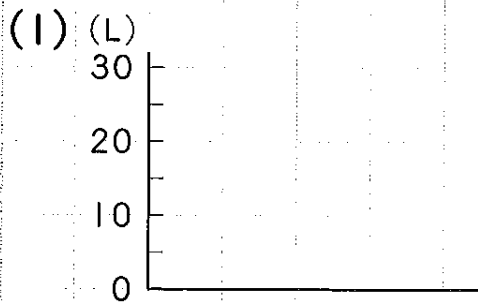
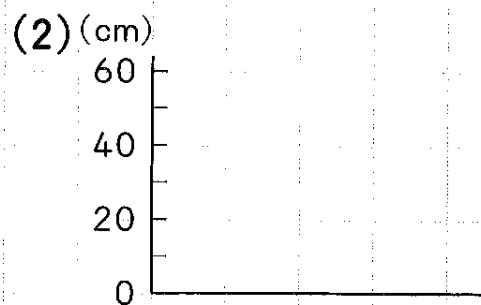
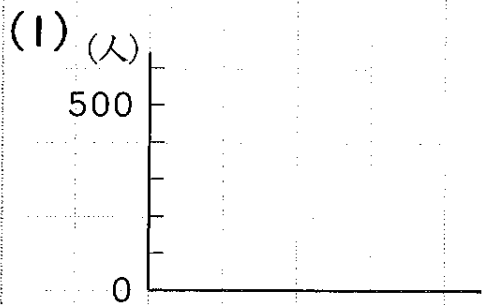


① 下のグラフで、1目もりが表している大きさをいい
ましょう。



② 下のグラフで、1目もりが表している大きさをいい
ましょう。



③ 下のグラフで、1目もりが表している大きさをいい
ましょう。

