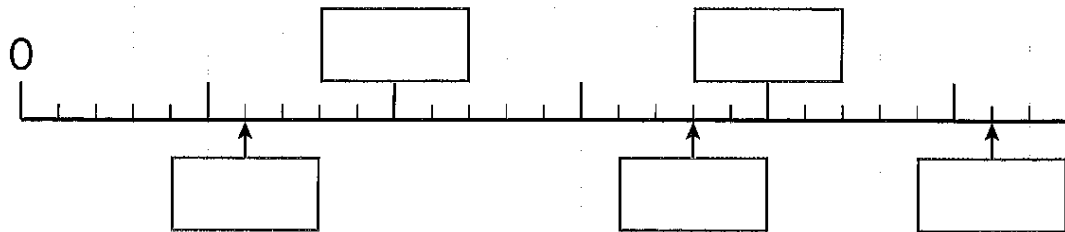
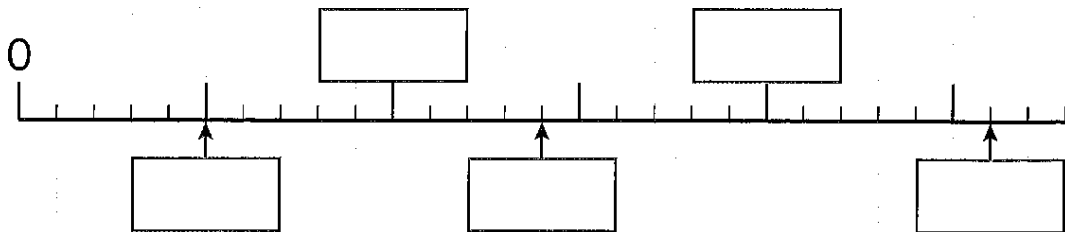


① 次の□に数を入れて数直線を作りましょう。また↑の
数を書きましょう。

(1) 1目もりを1万として。

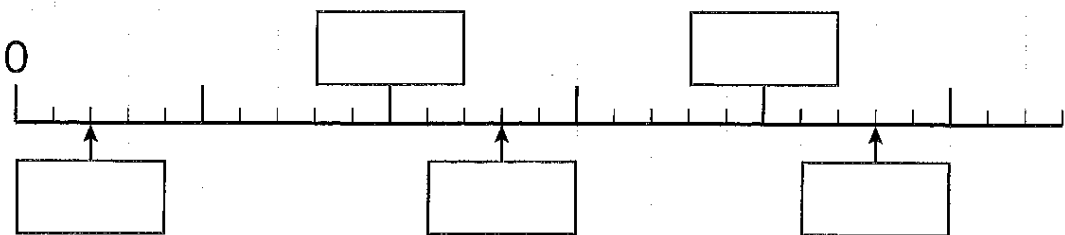


(2) 1目もりを1000として。



② 次の□に数を入れて数直線を作りましょう。また↑の
数を書きましょう。

(1) 1目もりを1000として。



(2) 1目もりを1万として。

